

SESSION 2002

BACCALAUREAT PROFESSIONNEL

HISTOIRE ET GEOGRAPHIE

- U 52 -

SUJET N°1

**LE REGIME POLITIQUE EN RUSSIE ET EN UNION SOVIETIQUE,
DE LA FIN DU XIX^{ème} SIECLE AUX ANNEES 1970**

DOCUMENT 1 : Pétition des habitants de Saint-Petersbourg au Tsar Nicolas II, 22 janvier 1905.

DOCUMENT 2 : Affiche pour le 17^{ème} congrès du parti communiste de l'URSS, 1934.

DOCUMENT 3 : Le témoignage d'un opposant au régime soviétique, 1947.

DOCUMENT 4 : Le « rapport » secret de N. Khrouchtchev, 1956.

DOCUMENT 5 : L'évolution du régime soviétique de Lénine à Brejnev, 1975.

QUESTIONS

QUESTION N°1 : (document 1) (3 points)

Quels sont les caractères du régime des tsars ?
Que veulent les pétitionnaires ?

QUESTION N°2 : (document 2) (3 points)

Quelle place l'affiche attribue-t-elle à chacun des acteurs (Lénine, Staline, le peuple) ?

QUESTION N°3 : (document 3) (2 points)

Quel aspect de la politique de Staline ce document souligne-t-il ?

QUESTION N°4 : (documents 2 et 4) (2 points)

Quel aspect du régime stalinien est dénoncé par N. Khrouchtchev ? Dans quelle mesure cet aspect apparaît-il, déjà, sur l'affiche de 1934 ?

QUESTION N°5 : (documents 5 et 3) (2 points)

Quel point de vue Soljenitsyne exprime-t-il sur l'évolution du régime soviétique ?

QUESTION N°6 : synthèse (8 points)

En vous aidant des documents, des réponses aux questions et de vos connaissances, rédigez une synthèse d'une vingtaine de lignes sur le sujet suivant :

*« L'évolution du régime politique en Russie et dans l'URSS
de la fin du XIX^{ème} siècle aux années 1970 ».*

PETITION DES HABITANTS DE SAINT-PETERSBOURG AU TSAR NICOLAS II,
22 JANVIER 1905.

« Sire! Nous, ouvriers de la ville de Saint-Petersbourg, nos femmes, nos enfants et nos vieux parents invalides, sommes venus vers toi, Sire, chercher la justice et la protection. Nous sommes tombés dans la misère : on nous opprime, on nous charge d'un travail écrasant, on nous insulte ; on ne reconnaît pas en nous des hommes, on nous traite comme des esclaves qui doivent supporter patiemment leur amer et triste sort et se taire! [...]

Quiconque parmi nous ose élever sa voix pour la défense des intérêts de la classe ouvrière est jeté en prison, envoyé en exil.

Sire! cela est-il conforme aux lois divines, par la grâce desquelles tu règnes? [...]

La Russie est trop grande, ses besoins trop variés et importants, pour que les fonctionnaires puissent la gouverner à eux tout seuls [...]

Ordonne immédiatement la convocation des représentants de la terre russe, de toutes les classes et de tous les ordres [...]

Et pour cela, ordonne que les élections à l'Assemblée Constituante se fassent sur la base du suffrage universel, secret et égal. C'est notre demande la plus importante... [...] »

Cité dans *Dossiers d'histoire 2nd*, Istra, 1981.

AFFICHE POUR LE 17EME CONGRES DU PARTI COMMUNISTE DE
L'UNION SOVIETIQUE, 1934.



Inscriptions :

- dans la flèche, sous Lénine :

« *Tout le pouvoir aux soviets !* »

- au niveau de Staline :

« *1917 1934*

« *Plus haut l'étendard de Lénine. Il nous apporte la victoire !* » »

- sur les banderoles du peuple, au bas de l'affiche :

« *Vive l'invincible parti de Lénine !* »

« *Vive le grand guide de la révolution prolétarienne mondiale, le camarade Staline !* »

TEMOIGNAGE D'UN OPPOSANT POLITIQUE AU REGIME SOVIETIQUE.

L'auteur a été interné dans un camp de travail forcé (goulag) après une dénonciation. Libéré, il raconte son retour et l'enquête qu'il mène sur ceux qui l'avaient dénoncé.

« De retour au village, je contrôlais sur les listes officielles de recensement les noms de mes dénonciateurs et je m'aperçus qu'ils étaient soigneusement disséminés à travers la région. L'un travaillait à la Coopérative, un autre à la fabrique de beurre; un troisième appartenait à l'administration du kolkhoze, et un quatrième était conducteur à la section des tracteurs mécaniques.

Le GPU¹ couvrait tout le territoire de ses espions afin d'avoir des yeux et des oreilles partout [...] Tout cela faisait des tonnes de dossiers, des millions d'espions, et cet inconcevable fatras était trié, étudié, enregistré, contrôlé critiquement. Lorsqu'il fallait agir d'urgence, on envoyait copie des rapports au Procureur, aux fonctionnaires du Parti chargés de la discipline et aux tribunaux secrets du GPU.

On forgeait ainsi des armes terribles qu'on utiliserait ultérieurement contre les hésitants ou les tièdes. Grâce à ce système, des dizaines de milliers de classeurs se remplissaient de fiches, dont chacune contenait un incroyable amalgame de détails intimes, d'indiscrétions, de mensonges, de flatteries et d'erreurs ».

K.A. KRAVCHENKO, *J'ai choisi la liberté*, Editions Self, 1947.

¹ *Le GPU* : la police politique au début de l'époque stalinienne

DOCUMENT 4**LE « RAPPORT » SECRET DE N. KHROUCHTCHEV.**

« Camarades, le culte de la personnalité a atteint de si monstrueuses proportions, surtout en raison du fait que Staline lui-même, utilisant toutes les méthodes concevables, a encouragé la glorification de sa propre personne. Cela est étayé par de nombreux faits. Un des exemples les plus caractéristiques de cette autoglorification et du manque absolu de modestie de Staline, est la publication, en 1948, de sa biographie abrégée. Staline y est flatté et glorifié à l'égal d'un dieu et considéré comme un sage infailible « *le plus grand des chefs* », « *le plus grand stratège de tous les temps* ». [...]

Camarades ! Afin de ne pas répéter les erreurs du passé, le Comité central s'est déclaré résolument contre le culte de l'individu. Nous considérons que Staline a été encensé à l'excès. Mais, dans le passé, Staline a incontestablement rendu de grands services au Parti, à la classe ouvrière et au mouvement international ouvrier. »

Cité dans B.LAZITCH, *Le rapport Khrouchtchev et son histoire*,
Le Seuil, 1976.

L'EVOLUTION DU REGIME SOVIETIQUE DE LENINE A BREJNEV, 1975.

En 1975, l'URSS est gouvernée par Léonid BREJNEV. Alexandre Soljénitsyne, écrivain russe dissident, a été contraint à s'installer à l'étranger. Il juge l'évolution du régime soviétique depuis l'époque de Lénine, dans un discours prononcé à New York, le 9 juillet 1975.

« C'est Khrouchtchev et son équipe qui ont imaginé [de] rejeter sur Staline toutes les fautes, tous les défauts les plus graves du communisme. Et leur entreprise a parfaitement réussi.

Mais, en fait, Lénine avait déjà, bien avant Staline, fait le principal. C'est lui qui a trompé les ouvriers avec l'autogestion¹, c'est lui qui a fait des syndicats des organes d'oppression, c'est lui qui a créé la Tchéka², les camps de concentration, c'est lui qui a envoyé des troupes pour écraser les nationalités et rassembler l'empire.

Staline, qui était particulièrement méfiant, n'a fait en tout et pour tout que ceci : là où il suffisait pour effrayer la population d'arrêter deux hommes, il en arrêtait cent.

Ses successeurs³ sont revenus à l'ancienne tactique. Là où il suffit d'arrêter deux hommes, ils en arrêtent deux et non cent ».

In A. SOLJENITSYNE, *Discours américains*, coll. "Points",
Le Seuil, 1975 .

¹ *Autogestion* : gestion des entreprises par les travailleurs eux-mêmes.

² *La Tchéka* : Première police politique du régime soviétique, remplacée successivement par le GPU, le NKVD puis le KGB.

³ N. KHROUCHTCHTVEV, puis L. BREJNEV.

SESSION 2002

BACCALAUREAT PROFESSIONNEL

HISTOIRE ET GEOGRAPHIE

- U 52 -

SUJET N°2

L'ASIE DE L'EST ET DU SUD-EST DANS L'ESPACE MONDIAL

DOCUMENT 1 : La part de l'Asie dans l'économie mondiale (tableau statistique).

DOCUMENT 2 : Le développement en Asie de l'Est et du Sud-Est (texte).

DOCUMENT 3 : La Zone Économique Spéciale de Shanghai (croquis et texte).

DOCUMENT 4 : Le quartier des affaires de Singapour (photographie).

DOCUMENT 5 : La crise asiatique frappe Hong-Kong (texte).

QUESTIONS

QUESTION N°1 : (document 1) (2 points)

Quelle est la place de l'Asie dans le monde ?

Quel est le poids de chacune des parties du continent identifiées dans le tableau ?

QUESTION N°2 : (document 2) (2 points)

Quelles sont les étapes du développement de l'Asie de l'Est et du Sud-Est ?

Comment s'est-il réalisé ?

QUESTION N°3 : (documents 2 et 3) (4 points)

A partir de quelles activités la Zone Economique Spéciale de Shanghai a-t-elle assuré son développement ?

Peut-on parler d'espace économique intégré à l'économie mondiale ?

Avec qui cette intégration se réalise-t-elle ?

QUESTION N°4 : (documents 3 et 4) (2 points)

Quel paysage urbain est issu du développement de ces nouvelles zones économiques ? Décrivez-le.

Quel est le facteur commun de localisation de Shanghai et de Singapour ?

QUESTION N°5 : (document 5) (2 points)

Quelles sont les limites actuelles au développement asiatique ?

QUESTION N°6 : synthèse (8 points)

En vous aidant des documents, des réponses aux questions et de vos connaissances, rédigez une synthèse d'une vingtaine de lignes sur le sujet suivant :

« L'Asie de l'Est et du Sud-Est : un pôle de croissance ».

LA PLACE DE L'ASIE DANS L'ECONOMIE MONDIALE.
(en pourcentages)

	ASIE ENTIERE	JAPON	CHINE	ASIE DU SUD-EST ²
Part de la population mondiale	56,0	2,2	21,3	6,9
Part dans le PIB mondial	28,9	15,5	2,4	3,6
Part dans le commerce mondial des marchandises :				
Exportations	25,6	8,0	3,0	6,4
Importations	25,0	6,6	2,6	7,0
Part dans le commerce mondial des services :				
Exportations	22,7	5,3	1,7	6,0
Importations	27,9	10,2	2,1	7,3
Part des investissements étrangers directs :				
Entrées	20,2	0,6	5,2	4,4
Sorties	19,3	10,4	0,6	1,0
Part de la capitalisation boursière (fin 1996)	25,3	15,9	—	3,6

1. Indonésie, Corée du Sud, Malaisie, Philippines, Thaïlande

D'après **Dossiers et Documents du Monde**,
Mai 1998

Sources : BRI, FIBV, CNUCED,
BANQUE MONDIALE, OMC

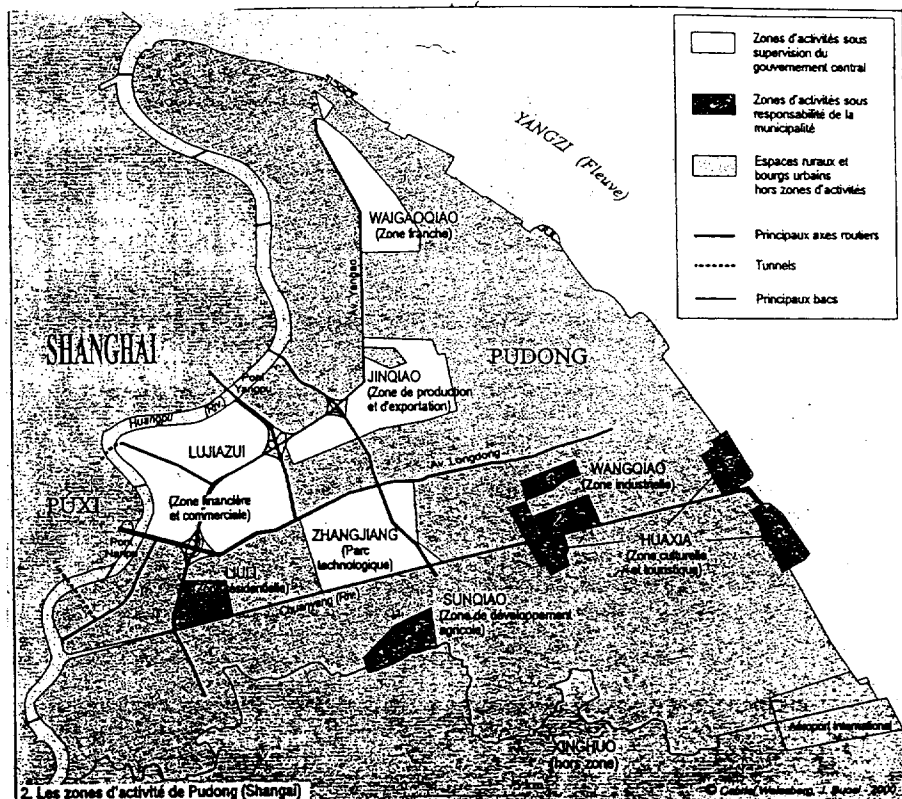
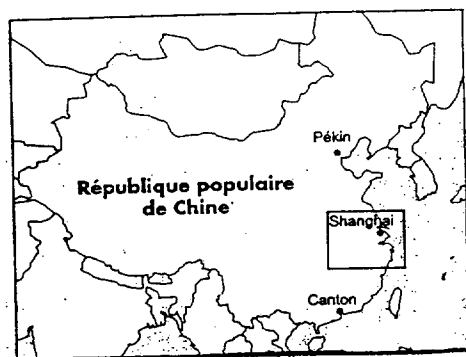
LE DEVELOPPEMENT EN ASIE DE L'EST ET DU SUD-EST.

« La Corée du Sud, Taiwan, Singapour et Hongkong sont les premiers pays du Sud à montrer que la sortie du sous-développement est possible. Leurs dirigeants ont su adopter des stratégies efficaces : formation de la main-d'œuvre, construction d'infrastructures, politique de crédit favorable aux secteurs performants, insertion dans le commerce mondial.

Le faible niveau des salaires rapporté à la qualification de la main d'œuvre a permis aux NPI de se positionner en concurrents des pays du Nord. En 1975, le salaire moyen d'un ouvrier du textile coréen ne représentait que 8 % de celui de son homologue français. Hongkong et Taiwan se sont d'abord spécialisés dans le textile, tout comme la Corée du Sud, qui y a ajouté des industries plus lourdes (chimie, industrie mécanique). Pour Singapour, ce sont le pétrole et ses produits dérivés qui ont joué un rôle moteur, ainsi que les services, notamment la finance [...].

D'autres pays d'Asie se sont lancés dans la même stratégie – Thaïlande, Indonésie, Malaisie, Chine continentale - et sont venus concurrencer les NPI de la « première génération ». Ces derniers, grâce au capital matériel et humain accumulé, sont parvenus à diversifier leurs activités vers des productions plus sophistiquées, en particulier dans les technologies de l'information et de la communication. Désormais, on ne délocalise plus *vers* mais *à partir de* ces pays, par exemple vers, les régions côtières de la Chine. »

LA ZONE ECONOMIQUE SPECIALE DE SHANGAI




La ZPE de *Jinqiao* est la première, tant par la superficie aménagée que par le volume des investissements. Deux entreprises – Shanghai General Motors, sino-américaine et Shanghai Huahong Micro Electronics, sino-japonaise – dépassent le milliard de dollars d'investissement. Par le volume des investissements, les firmes étatsuniennes arrivent nettement en tête (près de 38 %), suivies par les japonaises (26 %), les hongkongaises (11 %) et les allemandes (8 %). Les autorités chinoises souhaitent accueillir ici principalement des entreprises de haute technologie (matériels de télécommunication, construction électrique et électronique).

La vitrine de la Zone de Pudong est la zone *financière* et commerciale de *Luijazui*. Deux cents constructions de plus de 17 étages y sont prévues, dont les deux tiers sont d'ores et déjà achevées. Parmi elles, la tour de télévision (Oriental Pearl TV Tower), d'une hauteur de 468 mètres fait figure de symbole de réussite du capitalisme chinois.

Le parc technologique de *Zhangjiang*... doit devenir une « base nationale pour les technologies biomédicales », et accueille de nombreuses entreprises du secteur pharmaceutique, parmi les plus grandes à l'échelle mondiale ; elles fabriquent des médicaments, en particulier des antibiotiques, qui manquent sur le marché chinois. »

DOCUMENT 4

SINGAPOUR, LE QUARTIER DES AFFAIRES



Source : *Brooke/Fotogram-Stone* –
Nathan Géographie terminale - 1995

LA CRISE ASIATIQUE FRAPPE HONG-HONG

« Après la crise financière asiatique 1997-1998 qui avait affaibli sa position de place financière et commerciale internationale, une remontée des principaux indicateurs macro-économiques ¹ avait permis pendant quelques mois à HongKong de remettre à plus tard la nécessité de s'attaquer à ses problèmes structurels. Mais une nouvelle vague de pessimisme a frappé l'ex-colonie britannique, qui éprouve une réelle insatisfaction à l'égard de son gouvernement [...].

Le chômage a repris le chemin de la hausse : il atteignait 5,5 % à la fin de 2001 et continue d'augmenter. Les écarts sociaux se creusent : le dernier recensement décennal, publié en 2001, montre une ville tellement polarisée entre riches et pauvres que, pour la première fois, le risque d'instabilité sociale inquiète [...].

Le trésor s'inquiète aussi de ce que près de 24 % des recettes du gouvernement dépendent des impôts sur l'immobilier (ce qui explique, en partie, les intérêts croisés entre promoteurs immobiliers et l'administration) : la forte baisse dans les transactions dans ce secteur depuis 1997-1998 rend d'autant plus urgente une réforme fiscale. Hier, on parlait de transformer HongKong en centre high-tech rival de Singapour et Taïwan, mais on ne voit pas se dessiner de stratégie à long terme dans ce domaine, en particulier dans la formation. »

Llaria Maria Sala

« *Bilan du monde, Le Monde* », Janvier 2002.

1. indicateurs macro-économiques : exemple PIB/PNB.

Toulouse, le 17 mai 2002

Rectorat

DEC 6

Affaire suivie par :
Carole TERRANCLE
Tél : 05 61 36 45 94
Fax : 05 62 26 26 95
Mél : dec6@ac-toulouse.fr

Place Saint Jacques
31 073 Toulouse cedex

Mesdames et Messieurs les recteurs d'académie
Division des examens et concours
Bureau sujet Bac Pro

Monsieur le Directeur du S.I.E.C

NOTE A L'ATTENTION DES CHEFS DE CENTRE

Epreuve d'histoire-géographie :

Sujet n°1 Page 6/6 Renvoi n°3

Il faut lire KHROUCHTCHEV
au lieu de KHROUCHTCHTVEV

Sujet n°2 Page 2/6 Document 1 Numérotation du renvoi.

Il faut lire ASIE DU SUD-EST ¹
au lieu de ASIE DU SUD-EST ²

Je vous remercie de bien vouloir communiquer cette information aux candidats en début d'épreuve.

Pour la Rectrice et par autorisation,
Pour la Chef de la Division
Des examens et concours
La Chef du Bureau DEC 6

Joëlle CABIRON

