

BACCALURAT PROFESSIONNEL

HISTOIRE ET GEOGRAPHIE


- U 52 -

Ce sujet comporte 6 pages numérotées de 1/6 à 6/6.
Assurez-vous que cet exemplaire est complet.
S'il est incomplet, demandez un autre exemplaire au chef de salle.

DUREE : 2 HEURES

COEFFICIENT : 2

SUJET 1

DOCUMENT 5**LE POIDS DE L'ALLEMAGNE EN EUROPE ET DANS L'UNION EUROPÉENNE**

La difficulté consiste à définir les modalités et l'ampleur du rééquilibrage¹. Elle est accentuée par des revendications spécifiques politiquement très sensibles : l'Allemagne qui, depuis la réunification, compte environ 80 millions d'habitants, contre 60 millions pour la France, entend que cet écart soit pris en compte, alors que Paris, au nom d'un supposé accord historique de parité, refuse ce « décrochage ».

1. du rééquilibrage du nombre de députés et de commissaires.

Source : Ph. LEMAÎTRE L. ZECCHINI
Le Monde, 7 décembre 2000

(carte et article parus à l'occasion du sommet des chefs d'États de l'Union européenne à Nice en décembre 2000).

**L'ALLEMAGNE DANS LES RAPPORTS DE PUISSANCE DANS LE
MONDE DE 1871 A NOS JOURS.**

DOCUMENT 1 : Les grandes puissances européennes avant 1914.

DOCUMENT 2 : Le Traité de Versailles 1919 (Extraits).

DOCUMENT 3 : La construction du mur de Berlin, 1961.

DOCUMENT 4 : Mémoires du chancelier H.KOHL (Extraits) 1997.

DOCUMENT 5 : Le poids de l'Allemagne dans l'Union européenne et en Europe en 2000.

QUESTIONS

QUESTION N°1 : (Document 1) **(2 points)**

Quelle est la place de l'Allemagne en Europe avant 1914 ?
Pourquoi dit-on que l'Europe domine le monde à cette date ?

QUESTION N°2 : (Document 2) **(3 points)**

Quels sont les événements qui ont conduit à la signature du traité de Versailles ?
Quelles sont les conséquences de ce traité pour la puissance allemande ?

QUESTION N°3 : (Document 3) **(3 points)**

En quoi le document 3 montre-t-il l'abaissement de la puissance allemande ?
Quelles sont alors les nouvelles grandes puissances dans le monde ? Expliquez pourquoi.

QUESTION N°4 : (Document 4 et 3) **(2 points)**

Quels événements changent la place de l'Allemagne en Europe à la fin des années 1980 et au début des années 1990 ?
Quelles sont les précautions prises par le chancelier Kohl et comment s'expliquent-elles ?

QUESTION N°5 : (Document 5) **(2 points)**

Quelle est la nouvelle place de l'Allemagne en Europe et quelles sont ses conséquences pour l'Union Européenne ?

QUESTION N°6 : (synthèse) **(8 points)**

En vous aidant des documents, des réponses aux questions et de vos connaissances, rédigez une synthèse d'une vingtaine de lignes sur le sujet suivant :

« L'Allemagne dans les rapports de puissance dans le monde de 1871 à nos jours ».

EXTRAIT DES MÉMOIRES DE H.KOHL

Le Chancelier allemand H.Kohl raconte les circonstances de son discours du 19 décembre 1989 devant la Porte de Brandbourg à Berlin, un mois et dix jours après la chute du mur.

« Je savais que ce serait vraiment l'un des discours les plus difficiles de ma vie. [...]. Tout impair susceptible d'être interprété à Paris, à Londres, à Moscou peut-être, comme une dérive nationaliste, aurait considérablement nui à notre cause. Il fallait aussi que, quoi qu'il arrive, j'évite de déchaîner les émotions et d'échauffer encore les esprits des dix mille personnes qui m'écouteraient.

Tout à coup, une question me vint à l'esprit : que ferions-nous si soudain la foule entonnait l'hymne national allemand et notamment la première strophe avec le vers « *Deutschland, Deutschland über alles* »¹? [...]. Tout ce qui pouvait être interprété comme débordement nationaliste aurait certainement ruiné la cause allemande.

[...] C'est alors que me vint l'idée de prendre contact avec le vicaire général de la Hofkirche²[...]. Il se déclara aussitôt prêt à nous envoyer un maître de chapelle³. Celui-ci entonnerait le vieux cantique : « *Maintenant, rendez tous grâce à Dieu* » si quelqu'un dans la foule se mettait à chanter la première strophe de l'hymne allemand. [...].

Un océan ondulant de drapeaux noir, rouge et or⁴ m'entourait. [...] Devant la petite estrade bricolée à la hâte, je rencontrai le maître de chapelle qu'on avait convoqué [...]. Il avait vainement essayé de monter un orchestre de cuivres. Il pensait qu'il n'avait aucune chance de couvrir le bruit de la foule. Un cantique ne lui paraissait pas convenir à l'atmosphère, les gens ne voudraient certainement pas le reprendre [...]. Le public resta raisonnable. Il avait compris que, pour retrouver la patrie commune à laquelle il aspirait, il fallait à présent faire preuve de retenue et de raison ».

Source : H. KOHL, *Je voulais l'unité de l'Allemagne*,

De Fallois 1997

Cité dans *L'Histoire*, n°236,

Octobre 1999

1. « Allemagne, Allemagne au dessus de tout ».
2. La Hofkirche : église à Berlin.
3. le maître de chapelle dirige la chorale d'une église.
4. les couleurs du drapeau allemand.



LES GRANDES PUISSANCES EUROPÉENNES AVANT 1914

Indicateurs de puissance

Population(en millions d'habitants).

	Allemagne	France	Grande Bretagne
1870	39	39	25
1890	49	37,5	35
1913	67	39	39

Parts relatives de la production industrielle mondiale (en %)

	Allemagne	France	Grande Bretagne
1880	8,5	7,8	22,9
1900	13,2	6,8	18,5
1913	14,8	6,1	13,6

Effectifs militaires des grandes puissances.

	Allemagne	France	Grande Bretagne
1880	426 000	543 00	367 000
1914	891 000	910 000	532 000

Expansion coloniale entre 1876 et 1914 (superficie et population des colonies, respectivement en millions de kilomètres carrés et en millions d'habitants) .

	Allemagne		France		Grande Bretagne	
	superficie	population	superficie	population	superficie	population
1876	-	-	0,9	6	22,5	252
1914	2,9	12,3	10,6	55,5	33,5	393,5

Source: P. KENNEDY, *Naissance et déclin des grandes puissances*, Payot, 1989.
M. BEAUD, *Histoire du capitalisme de 1500 à nos jours*, Le Seuil, 1990,
F.G. DREYFUS, *L'Allemagne contemporaine, 1850-1990*, Nouvelle Clio,
PUF, 1991

DOCUMENT 3

LA CONSTRUCTION DU MUR DE BERLIN, 1961




Photo : L'Histoire n°236
Octobre 1999
Cliché AKG, Berlin

LE TRAITÉ DE VERSAILLES, 1919 (Extraits)

Art. 42. Il est interdit à l'Allemagne de maintenir ou de construire des fortifications, soit sur la rive gauche du Rhin, soit sur la rive droite, à l'ouest d'une ligne tracée à 50 kilomètres de ce fleuve.

Art. 43. Sont également interdits dans la zone définie à l'article 42, l'entretien ou le rassemblement de forces armées [...]

Art. 51. Les territoires cédés à l'Allemagne [...] par le traité de Francfort du 10 mai 1871 sont réintégrés dans la souveraineté française à dater de l'armistice du 11 novembre 1918.

Art. 119. L'Allemagne renonce, en faveur des principales puissances alliées et associées, à tous ses droits et titres sur ses possessions d'outre-mer.

Art. 160. [...] la totalité des effectifs des Etats qui constituent l'Allemagne ne devra pas dépasser 100 000 hommes [...]

Art. 171. [...] Sont également prohibés la fabrication et l'importation en Allemagne des chars blindés, tanks...

Art. 198. Les forces militaires de l'Allemagne ne devront comporter aucune aviation militaire ni navale.

BACCALURAT PROFESSIONNEL

HISTOIRE ET GEOGRAPHIE

- U 52 -

Ce sujet comporte 6 pages numérotées de 1/6 à 6/6.
Assurez-vous que cet exemplaire est complet.
S'il est incomplet, demandez un autre exemplaire au chef de salle.

DUREE : 2 HEURES

COEFFICIENT : 2

SUJET 2

LES GRANDS ENSEMBLES DOMINANTS DU MONDE ACTUEL

DOCUMENT 1 : La ventilation du commerce mondial par grandes régions du monde en 1998.

DOCUMENT 2 : Les flux mondiaux de marchandises en 1997.

DOCUMENT 3 : La capitalisation boursière des principaux marchés boursiers dans le monde en 1999.

DOCUMENT 4 : Les deux cents premières multinationales en 1997.

QUESTIONS

QUESTION N°1 : (Document 1) (2 points)

Quelles sont les grandes zones exportatrices et importatrices dans le monde ?
 Quelles remarques pouvez-vous faire sur leur répartition ?
 Quelle division du monde voit-on apparaître ?

QUESTION N°2 : (Document 2) (2 points)

Quels sont les principaux pôles d'exportation et quelle est l'importance de leurs relations commerciales.

QUESTION N°3 : (Document 3) (3 points)

Dans quelle partie du monde se situent les marchés financiers ?
 A l'intérieur de cette partie distinguez de grands ensembles géographiques et précisez l'importance respective de chacun.

QUESTION N°4 : (Documents 1, 2 et 3) (2 points)

Cette organisation (document 3) du monde correspond-elle exactement à celles envisagées dans les documents 1 et 2 ?
 Justifiez votre réponse.

QUESTION N°5 : (Document 4) (3 points)

A quels acteurs de la vie économique le texte s'intéresse-t-il ?
 En vous appuyant sur le second paragraphe du texte, dites quel rôle ont ces acteurs dans les relations économiques mondiales ?
 Par quel terme désigne-t-on cette évolution des relations économiques mondiales ?

QUESTION N°6 : (Synthèse) (8 points)

En vous aidant des documents, des réponses aux questions et de vos connaissances, rédigez une synthèse d'une vingtaine de lignes sur le sujet suivant :

« Les grands ensembles dominants du monde actuel ».

Vous appuierez cette synthèse par la réalisation d'un schéma cartographique simple présentant une typologie des grands ensembles actuels et de leurs relations.

DOCUMENT 1**LA VENTILATION DU COMMERCE MONDIAL
PAR GRANDES RÉGIONS DU MONDE EN 1998**

	EXPORTATIONS EN %	IMPORTATIONS EN %
ASIE	24,7	20,1
MOYEN-ORIENT	2,7	2,5
AFRIQUE	2,1	2,4
PAYS EN TRANSITION *	3,4	3,8
EUROPE OCCIDENTALE	44,7	43,6
AMERIQUE LATINE	5,3	6,3
AMERIQUE DU NORD	17,1	21,3

Total : 5225 milliards
de dollars

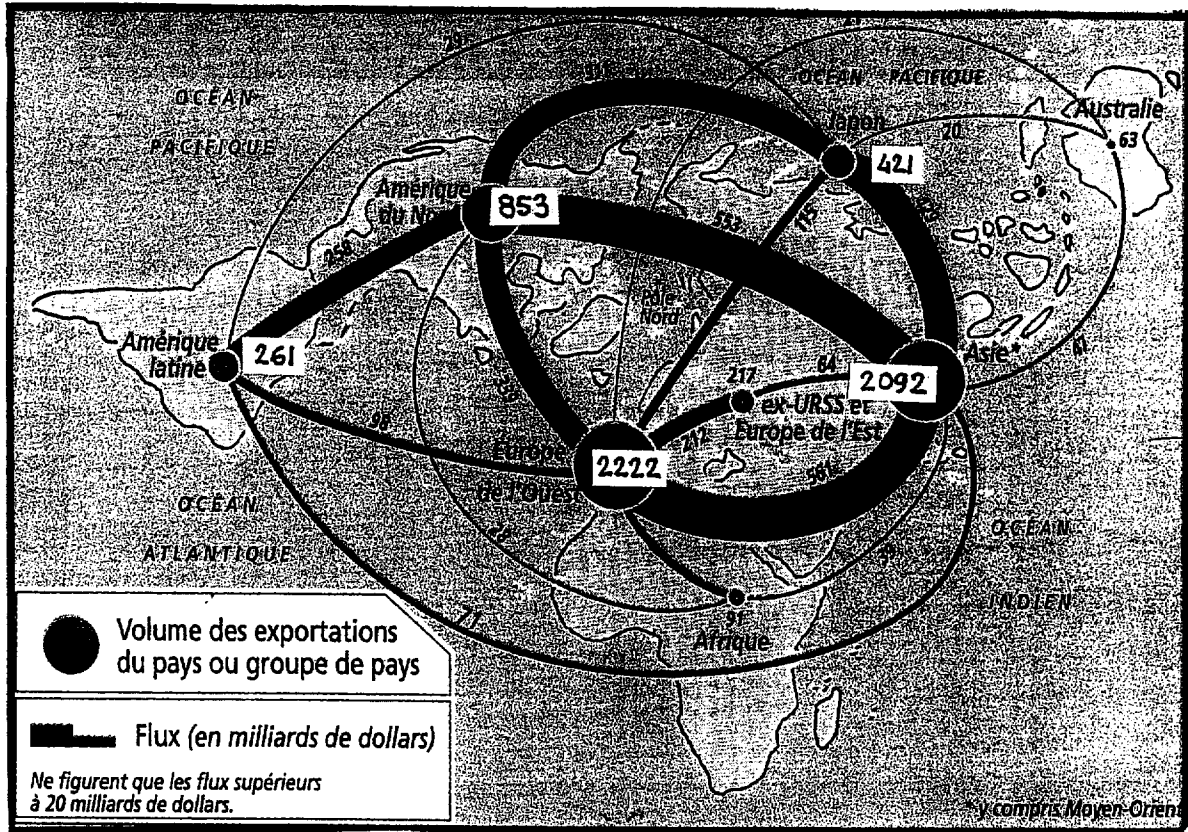
Total : 5410 milliards
de dollars

* Ancienne URSS et pays de l'Europe de l'Est.

Source: *Dossiers et Documents du Monde*, 23 novembre 1999.

DOCUMENT 2

LES FLUX MONDIAUX DE MARCHANDISES EN 1997



* Asie : y compris le Moyen-Orient

Source: Atlas Magnard, Juillet 1999.



LA CAPITALISATION BOURSIÈRE * DES PRINCIPAUX MARCHÉS
BOURSIERS DANS LE MONDE
(en milliards d'euros)

New York stock exchange	9 358
Nasdaq (marché électronique US)	2 344
Tokyo	2 273
Londres	2 140
Osaka	1 743
Francfort	1 019
Paris	984
Zurich	642
Milan	568
Amsterdam	562
Toronto	506
Montréal	501
Madrid	375

** Le chiffre de la capitalisation boursière est obtenu en multipliant le nombre des actions par leurs cours du moment.*

DOCUMENT 4

LES DEUX CENTS PREMIÈRES MULTINATIONALES

[...] Au début des années 90, quelques 37000 firmes transnationales enserraient, avec leurs 170 000 filiales, l'économie internationale dans leurs tentacules. Cependant, le lieu de pouvoir se situe dans le cercle plus restreint des « deux cents premières » : depuis les années 80, celles-ci ont connu une expansion ininterrompue par voie de fusions et de rachats d'entreprises.

Ainsi, la part du capital transnational dans le PIB mondial est passée de 17 % au milieu des années 60 à 24 % en 1982 et à plus de 30 % en 1995. Les « deux cents premières » sont des conglomérats dont les activités planétaires couvrent sans distinction les secteurs primaire, secondaire et tertiaire : grandes exploitations agricoles, production manufacturière, services financiers, commerce, etc. Géographiquement, elles se répartissent entre neuf pays : Japon (62), Etats-Unis (53), Allemagne (23), France (19), Royaume-Uni (11), Suisse (8), Corée du Sud (6), Italie (5) et Pays-Bas (4).

Au sein des « deux cents premières », les disparités de pouvoir n'ont cessé de s'accroître au fur et à mesure de l'expansion qu'elles ont connue ces deux décennies, et cela en raison, notamment, de la guerre qu'elles se livrent pour s'arroger des parts de plus en plus grosses du marché mondial. En effet, entre 1982 et 1995, le nombre des firmes américaines a chuté de 80 à 53, tandis que celui des japonaises augmentait dans le même temps de 35 à 62. Autrefois première puissance impériale, le Royaume-Uni a vu le nombre des siennes tomber de 18 à 11 ; en revanche, un nain géographique et démographique a surgi : la Suisse.

Source : Frédéric F. CLAIRMONTE,
Dossiers et documents du Monde, octobre 1997

CARTE À COMPLÉTER

