

0406 – FHG HG

SESSION 2004

**BACCALAUREAT PROFESSIONNEL**

**HISTOIRE ET GEOGRAPHIE**

**COEFFICIENT : 2**

**DUREE : 2 HEURES**

AUCUN DOCUMENT N'EST AUTORISE

L'USAGE DE LA CALCULATRICE N'EST PAS AUTORISE

**LE CANDIDAT TRAITERA AU CHOIX LE SUJET 1 OU LE SUJET 2**

0406 – FHG HG

SESSION 2004

**BACCALAUREAT PROFESSIONNEL**

**HISTOIRE ET GEOGRAPHIE**

**COEFFICIENT : 2**

**DUREE : 2 HEURES**

**SUJET N°1**

**TERRITOIRE ET NATION EN ALLEMAGNE, DE 1850 A NOS JOURS**

- Document 1** Le territoire allemand de 1850 à 1919
- Document 2** Une carte extraite d'un atlas pangermaniste allemand (1893)
- Document 3** La conception de la nation et les projets territoriaux des nazis (1920)
- Document 4** Extrait du communiqué final de la conférence de Yalta (11/02/1945)
- Document 5** Les territoires en Europe centrale en 2000
- 

**QUESTIONS**

**Question 1 (document 1)** (2 points)  
 Quelles sont les modifications intervenues dans l'organisation du territoire allemand entre 1850 et 1871 ?

**Question 2 (document 2)** (2 points)  
 Quelles conceptions de la nation et du territoire apparaissent dans ce document ?

**Question 3 (documents 2 et 3)** (3 points)  
 D'après le texte, quelles sont les intentions territoriales des nazis en 1920 ?  
 Quelle est leur conception de la nation ?  
 Quelle comparaison établir avec les conceptions des pangermanistes ? (document 2) ?

**Question 4 (documents 4 et 5)** (2 points)  
 Quel est le sort de l'Allemagne en 1945 ?

**Question 5 (document 5)** (1 point)  
 Quels sont les principaux événements évoqués par ce document ?  
 Quels sont les changements territoriaux qui se sont produits après 1989 ?

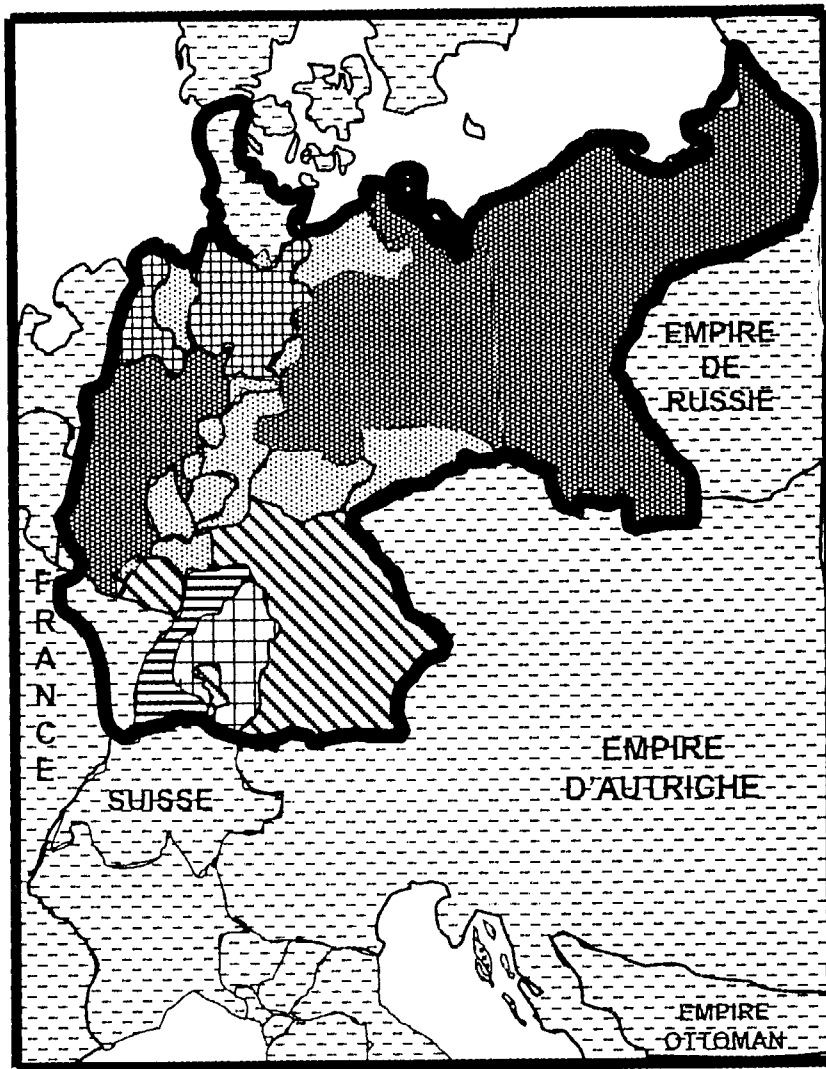
**Question 6 (documents 2, 3 et 5)** (2 points)  
 Comment expliquer le sous-titre de l'auteur du document 5 : « *Dix ans après la chute du mur, les pires appréhensions ne se sont pas produites* » ?

**Question 7, synthèse** (8 points)








A l'aide des documents, des réponses aux questions et de vos connaissances, rédigez une synthèse d'une vingtaine de lignes sur le sujet suivant :

« **Territoire et nation en Allemagne, de 1850 à nos jours** ».

Document 1 : LE TERRITOIRE ALLEMAND DE 1850 À 1919



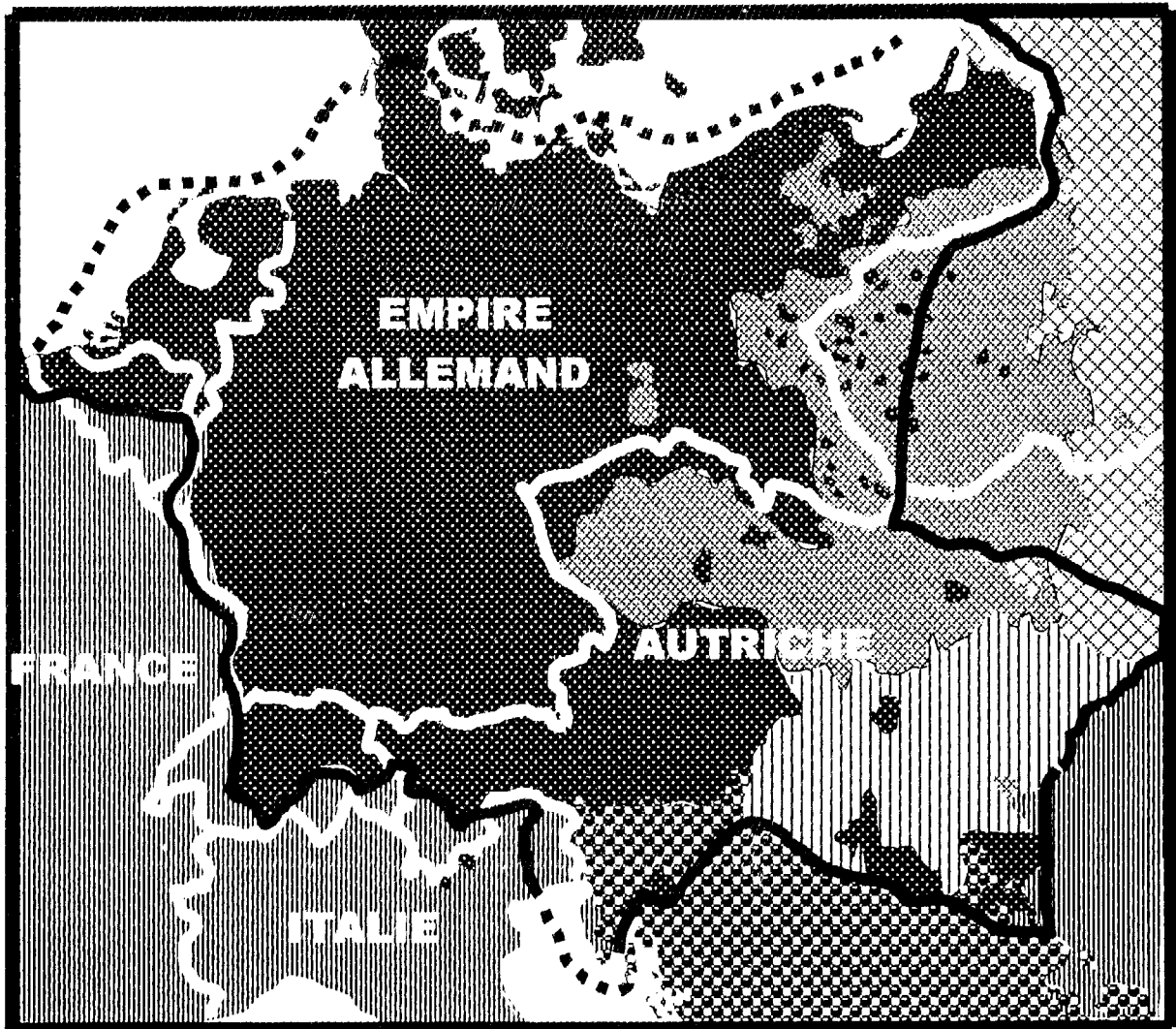
Le territoire des Etats allemands vers 1850 :

	Royaume de Prusse		Hanovre
	Royaume de Bavière		Autres petits Etats allemands
	Royaume de Wurtemberg		Etats voisins
	Duché de Bade		

Les limites du territoire de l'Empire allemand à partir de 1871 :

Document 2 :

**LANGUES ET PEUPLES D'EUROPE , d'après un atlas pangermaniste allemand<sup>1</sup>**




Frontières et nom d'État en 1893



Limites nécessaire de l'empire allemand selon les auteurs de la carte


**Groupes linguistiques et peuples selon les auteurs de la carte :**



Langues germaniques

Langues latines

Langue magyare (hongroise)



Langues slaves du nord

Langues slaves du sud

Langues russe, ukrainienne, lithuanienne

Carte simplifiée, d'après l'Atlas de DEBES, *Europa, Sprachen und Volkerkarte* (Carte des langues et des peuples de l'Europe), 1893

<sup>1</sup> *Pangermaniste* : courant de pensée politique allemand de la fin du XIX<sup>e</sup> siècle, voulant rassembler tous ceux qu'il considère comme des Allemands dans un seul État.

**Document 3 : PROGRAMME DU NSDAP <sup>1</sup>, MUNICH, 24 FEVRIER 1920  
(EXTRAITS)**

- « 1. Nous demandons la constitution d'une grande Allemagne, réunissant tous les Allemands sur la base du droit des peuples à disposer d'eux-mêmes.
2. Nous demandons l'égalité des droits du peuple allemand au regard des autres nations, l'abrogation du Traité de Versailles.
3. Nous demandons de la terre et des colonies pour nourrir notre peuple et résorber la surpopulation.
4. Seuls les citoyens bénéficient des droits civiques. Pour être citoyen, il faut être de sang allemand, la confession importe peu. Aucun juif ne peut donc être citoyen. [...]
5. Le droit de fixer la direction et les lois de l'État est réservé aux seuls citoyens. Nous demandons que toute fonction publique, quelle qu'en soit la nature, ne puisse être tenue par des non-citoyens. [...]
7. Nous demandons que l'Etat s'engage à procurer à tous les citoyens des moyens d'existence. Si ce pays ne peut nourrir toute la population, les non-citoyens devront être expulsés du Reich ».

Cité dans Walter HOFFER, *Le National-socialisme par les textes*, PLON, 1963

<sup>1</sup> NSDAP : le parti national-socialiste ouvrier allemand (parti nazi)

**Document 4 : EXTRAIT DU COMMUNIQUE FINAL  
DE LA CONFERENCE DE YALTA (11/02/1945)**

« (...)

**II Occupation et contrôle de l'Allemagne**

Nous nous sommes mis d'accord sur la politique commune et les plans communs à adopter pour assurer l'exécution des termes de la capitulation inconditionnelle que nous imposerons à l'Allemagne nazie, après que la résistance armée allemande aura été définitivement écrasée. (...)

Les plans adoptés prévoient que chacune des trois puissances occupera avec ses forces armées une zone séparée en Allemagne. Il a été, en outre, convenu que la France serait invitée par les trois puissances, si elle le désire, à occuper également une zone et à faire partie de la commission de contrôle comme quatrième membre de cette commission. (...)

Il n'est pas dans notre intention d'anéantir le peuple allemand, mais les Allemands ne pourront espérer une existence convenable et une place dans le Conseil des nations unies qu'après l'extirpation du national-socialisme et du militarisme.

**VI Pologne**

(...)

Nous réaffirmons notre désir commun de voir s'édifier une Pologne forte, libre, indépendante et démocratique. (...)

Les chefs des trois gouvernements estiment que la frontière orientale de la Pologne à l'est devra suivre la ligne Curzon<sup>1</sup>. (...) Ils reconnaissent que la Pologne devra obtenir des accroissements sensibles de territoires au Nord et à l'Ouest. (...) »

Http : //hypo.ge-dip.etat-ge.ch/www/cliotexte/html/yalta.1945.html

1. Ligne Curzon : Ligne tracée après la Première guerre mondiale par un diplomate britannique. Avantagée pour les Soviétiques, elle correspond à l'actuelle frontière orientale de la Pologne.

## **Document 5 : LES TERRITOIRES EN EUROPE CENTRALE EN 2000**

*Le 22 septembre 2000, un colloque est prévu à l'Université de Montréal (Canada) pour étudier le bilan et des perspectives de la réunification allemande. Le texte suivant est diffusé peu avant pour fixer les enjeux de cette réflexion historique.*

### **« Bilan et perspectives de la réunification allemande »**

*Dix ans après la chute du mur, les pires appréhensions ne se sont pas produites*

Les zones de conflits frontaliers potentiels, apparaissent plutôt stables dix ans après la réunification allemande, explique Laurent McFalls, organisateur du colloque sur les relations internationales de la réunification allemande.

La réunification de l'Allemagne a déjà dix ans. Pour faire le point sur les attentes et les craintes qu'a suscitées cet événement majeur de la fin du siècle dernier, le Centre canadien d'études allemandes et européennes [...] organise une table ronde qui réunira plusieurs experts de la question le 22 septembre.

Aux yeux de M. McFalls [organisateur du colloque], la situation potentiellement explosive il y a dix ans apparaît particulièrement calme et stable aujourd'hui; les pires appréhensions ne se sont pas produites. En 1990, plusieurs conflits frontaliers étaient à craindre. Du côté de la Pologne, par exemple, il n'était pas assuré que l'Allemagne allait reconnaître la frontière de 1945 alors que des territoires lui appartenant avaient été attribués à la Pologne. Aujourd'hui, la ville frontalière de Francfort-sur-l'Oder apparaît comme un exemple de coexistence pacifique. Du côté de la frontière tchèque, certains ont craint un mouvement de revanche de la part des réfugiés allemands expropriés et expulsés des territoires frontaliers tchèques après la guerre<sup>1</sup>. Ce différend n'est pas encore réglé et les groupes allemands de droite exploitent le litige à des fins électorales.  
[...]

Israël était lui aussi inquiet des répercussions de la réunification sur les Juifs allemands. Alors qu'on craignait une dérive nationaliste, l'Allemagne a reconnu l'État d'Israël ainsi que sa responsabilité dans l'holocauste<sup>2</sup>. [...]

Si les voisins de l'Allemagne ont craint que l'importance de ses investissements économiques sur leurs territoires entraîne une forme de colonialisme, le professeur McFalls est d'avis que l'intégration économique s'avère positive pour des pays tels que la Pologne, la Hongrie et la République tchèque. «*Tant que ça ira bien en Allemagne, ça ira bien dans ces pays*», croit-il.

Daniel Baril, in [www.forum.unmontreal.ca](http://www.forum.unmontreal.ca). 18 septembre 2000

<sup>1</sup> En 1945, plusieurs millions d'Allemands ont été expulsés des territoires de l'Europe centrale et orientale annexés par l'Union soviétique et la Pologne ou recouverts par la Tchécoslovaquie ou la Roumanie. Parmi eux, les Sudètes, Allemands des régions frontières de la Tchécoslovaquie dont l'agitation nationaliste avait servi de prétexte pour envahir le pays en 1938-1939.

<sup>2</sup> Holocauste : nom par lequel on désigne, en Amérique du Nord, le génocide des Juifs par les nazis.

0406 – FHG HG

SESSION 2004

**BACCALAUREAT PROFESSIONNEL**

**HISTOIRE ET GEOGRAPHIE**

**COEFFICIENT : 2**

**DUREE : 2 HEURES**

AUCUN DOCUMENT N'EST AUTORISE

L'USAGE DE LA CALCULATRICE N'EST PAS AUTORISE

**LE CANDIDAT TRAITERA AU CHOIX LE SUJET 1 OU LE SUJET 2**

0406 – FHG HG

SESSION 2004

**BACCALAUREAT PROFESSIONNEL**

**HISTOIRE ET GEOGRAPHIE**

**COEFFICIENT : 2**

**DUREE : 2 HEURES**

**SUJET N°2**

<b>LE JAPON ET L'ASIE DU SUD-EST DANS LE MONDE</b>
--

- Document 1** La puissance commerciale du Japon, carte
- Document 2** Un jugement sur la puissance japonaise aujourd'hui.  
Philippe PELLETIER, Le Japon, une puissance en question, *La documentation photographique*, n° 8029, octobre 2002.
- Document 3** Le PNB des états de l'Asie du Sud-Est, tableau statistique.
- Document 4** Le Japon et les autres pôles de croissance de l'Asie du Sud-Est, tableau statistique.
- Document 5** Les investissements étrangers en Chine, *Le Monde*, 9 septembre 2003

### QUESTIONS

**Question 1 (document 1) (2 points)**  
Comment se manifeste la puissance commerciale du Japon ? Quels sont ses partenaires privilégiés ?

**Question 2 (document 2) (2 points)**  
D'après ce texte, quelles sont les évolutions récentes de la puissance japonaise ?

**Question 3 (documents 3 et 4) (4 points)**  
Quel est le poids du Japon et des pays de l'Asie du Sud-Est dans le monde ? Quels espaces se différencient dans l'Asie du Sud-Est ?

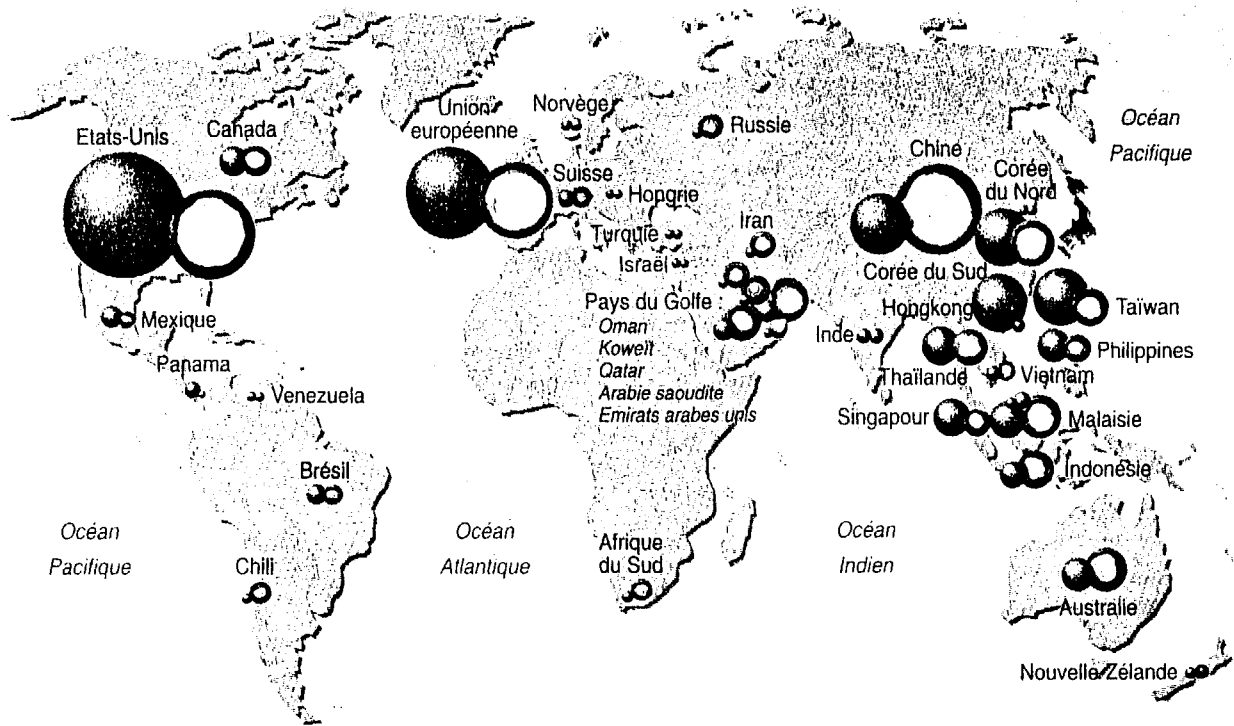
**Question 4 (document 5) (4 points)**  
Comment se manifeste le dynamisme de la Chine ? Comment peut-on l'expliquer ? Quelles en sont les limites éventuelles ?

**Question 5, synthèse (8 points)**


A l'aide des documents, des réponses aux questions et de vos connaissances, rédigez une synthèse d'une vingtaine de lignes sur le sujet suivant :

**« Le Japon et l'Asie du Sud-Est dans le monde ».**

**Document 1 : LA PUISSANCE COMMERCIALE DU JAPON**



**Echanges commerciaux du Japon en 2001, (en milliards de dollars)**



*Atlas du Monde Diplomatique. Hors série Manière de voir, janvier 2003*

## Document 2 : UN JUGEMENT SUR LA PUISSANCE JAPONAISE AUJOURD'HUI

« Le Japon ne peut plus être considéré comme « *un géant économique et un nain politique* ». L'Etat japonais fait de plus en plus entendre sa voix dans les instances internationales, et y exerce des responsabilités. (...). Le Japon est en crise, ce qui ne signifie pas qu'il soit sur le déclin (...).

Depuis l'an 2000, les Etats-Unis ne sont plus le premier partenaire commercial du Japon. Les neufs pays de l'« Asie émergente » ont pris cette place. La « sphère de coprosperité » imaginée par les dirigeants japonais durant la Seconde Guerre Mondiale n'est certes pas ressuscitée en tant que telle. Mais l'influence japonaise, d'abord économique, ensuite culturelle et, bientôt, politique, se fait sentir dans toute l'Asie orientale et au-delà, à l'échelle du Pacifique (Australie, Océanie, Amérique du Nord, Amérique latine). Sur la façade Pacifique de l'Asie, seule la Chine semble en mesure de lui faire contrepoids, à moins d'entrer en synergie <sup>1</sup> avec elle. Cette dernière hypothèse dépend beaucoup de l'attitude américaine et, quoique de façon moindre, de l'attitude européenne. »

Philippe PELLETIER : Le Japon, une puissance en question, 2002  
*La Documentation Photographique*

<sup>1</sup> Synergie : action qui rassemble et associe les forces de deux partenaires, allusion à la coopération possible entre Japon et Chine.

**Document 3 : LE PNB DES ÉTATS DE L'ASIE DU SUD-EST,**  
comparé avec celui de quelques états témoins (année 2001)

	Rang	PNB/hab (en \$)		Rang	PNB global (en milliards de \$)
<b>Japon</b>	<b>5</b>	<b>35 610</b>	<i>Etats-Unis</i>	<i>1</i>	<i>9 780</i>
<i>Etats-Unis</i>	<i>7</i>	<i>34 280</i>	<b>Japon</b>	<b>2</b>	<b>4 223</b>
<b>Hongkong</b>	<b>11</b>	<b>25 330</b>	<i>Allemagne</i>	<i>3</i>	<i>1 939</i>
<i>Allemagne</i>	<i>18</i>	<i>23 560</i>	<i>France</i>	<i>5</i>	<i>1 380</i>
<i>France</i>	<i>20</i>	<i>22 730</i>	<b>Chine</b>	<b>6</b>	<b>1 131</b>
<b>Brunei</b>	<b>21</b>	<b>22 400</b>	<i>Mexique</i>	<i>10</i>	<i>550</i>
<b>Singapour</b>	<b>24</b>	<b>21 500</b>	<i>Brésil</i>	<i>11</i>	<i>529</i>
<i>Emirats Arabes Unis</i>	<i>26</i>	<i>21 020</i>	<b>Corée du sud</b>	<b>12</b>	<b>481</b>
<i>Australie</i>	<i>27</i>	<i>19 900</i>	<i>Inde</i>	<i>13</i>	<i>477</i>
<b>Taiwan</b>	<b>41</b>	<b>14 093</b>	<i>Australie</i>	<i>14</i>	<i>385</i>
<b>Corée du sud</b>	<b>61</b>	<b>9 460</b>	<b>Taiwan</b>	<b>16</b>	<b>315</b>
<i>Arabie saoudite</i>	<i>65</i>	<i>8 460</i>	<i>Russie</i>	<i>19</i>	<i>253</i>
<i>Mexique</i>	<i>80</i>	<i>5 530</i>	<i>Arabie saoudite</i>	<i>23</i>	<i>181</i>
<b>Malaisie</b>	<b>100</b>	<b>3 130</b>	<b>Hongkong</b>	<b>24</b>	<b>170</b>
<i>Brésil</i>	<i>106</i>	<i>3 070</i>	<b>Indonésie</b>	<b>29</b>	<b>145</b>
<i>Tunisie</i>	<i>118</i>	<i>2 070</i>	<b>Thaïlande</b>	<b>33</b>	<b>118</b>
<b>Thaïlande</b>	<b>123</b>	<b>1 940</b>	<b>Singapour</b>	<b>39</b>	<b>88</b>
<i>Russie</i>	<i>127</i>	<i>1 750</i>	<b>Birmanie</b>	<b>41</b>	<b>82</b>
<b>Birmanie</b>	<b>128</b>	<b>1 740</b>	<b>Philippines</b>	<b>43</b>	<b>80</b>
<i>Algérie</i>	<i>134</i>	<i>1 650</i>	<b>Malaisie</b>	<b>44</b>	<b>79</b>
<i>Bulgarie</i>	<i>135</i>	<i>1 650</i>	<i>Emirats Arabes Unis</i>	<i>46</i>	<i>61</i>
<b>Philippines</b>	<b>151</b>	<b>1 030</b>	<i>Algérie</i>	<i>50</i>	<i>51</i>
<i>Bolivie</i>	<i>152</i>	<i>950</i>	<i>Nigéria</i>	<i>58</i>	<i>37</i>
<b>Chine</b>	<b>156</b>	<b>890</b>	<b>Vietnam</b>	<b>61</b>	<b>32</b>
<b>Indonésie</b>	<b>165</b>	<b>690</b>	<i>Tunisie</i>	<i>64</i>	<i>20</i>
<b>Corée du Nord</b>	<b>179</b>	<b>500</b>	<i>Bulgarie</i>	<i>78</i>	<i>13</i>
<i>Sénégal</i>	<i>180</i>	<i>470</i>	<b>Corée du Nord</b>	<b>84</b>	<b>11</b>
<i>Inde</i>	<i>183</i>	<i>460</i>	<i>Bolivie</i>	<i>97</i>	<i>8</i>
<b>Vietnam</b>	<b>188</b>	<b>410</b>	<b>Brunei</b>	<b>101</b>	<b>7,2</b>
<b>Laos</b>	<b>199</b>	<b>300</b>	<i>Ethiopie</i>	<i>105</i>	<i>6,6</i>
<i>Nigéria</i>	<i>201</i>	<i>290</i>	<i>Sénégal</i>	<i>118</i>	<i>4,7</i>
<b>Cambodge</b>	<b>204</b>	<b>270</b>	<i>Congo (ex-Zaire)</i>	<i>125</i>	<i>4,1</i>
<i>Ethiopie</i>	<i>226</i>	<i>100</i>	<b>Cambodge</b>	<b>135</b>	<b>3,3</b>
<i>Congo (ex-Zaire)</i>	<i>227</i>	<i>80</i>	<b>Laos</b>	<b>156</b>	<b>1,6</b>

Sur un total de 227 états  
PNB moyen par habitant du monde : 6 750

Source: Atlaseco 2004

**Document 4 : LE JAPON ET LES POLES DE CROISSANCE  
DE L'ASIE DU SUD-EST en 2002**

<b>ETATS<sup>1</sup></b>	<b>Population<sup>2</sup> (millions d'hab)</b>	<b>Croissance en 2002 (%)</b>	<b>Exportations (Milliards de \$)</b>	<b>Importations (Milliards de \$)</b>
<i>Etats-Unis<sup>3</sup></i>	285,3	2,4	721,7	1146
Japon	127	0,3	371	282,2
Chine	1 271,8	8	266	214,6
Corée du Sud	47,3	6,3	162,5	148,4
Taiwan	22,8	3,5	?	?
Hongkong	6,7	2,3	179,4	186,8
Indonésie	209	3,7	57,9	34,8
Thaïlande	61,2	5,4	66,8	57
Singapour	4,1	2,3	122,5	109,6
Birmanie	48,3	?	2,2	2,5
Philippines	78,3	4,6	33,9	32,3
Malaisie	23,8	- 0,7	88	69,6
Vietnam	79,5	7	15,8	16,4
Corée du Nord	22,4	?	?	?
Brunei	0,344	?	?	?
Cambodge	12,2	5	1,3	1,7
Laos	5,4	5	0,311	0,528

Source: *Atlaseco 2004*

<sup>1</sup> Classés par rang mondial dans le PNB global

<sup>2</sup> 2002 ou 2001

<sup>3</sup> Les États-Unis figurent à titre comparatif

## DOCUMENT 5 :

### LES INVESTISSEMENTS ETRANGERS EN CHINE

« Le flux ne se tarit pas. Il enfle même. Ce fut un choc quand le chiffre est tombé au printemps dernier : la Chine avait attiré en 2002 près de 53 milliards de dollars (près de 48 milliards d'euros) d'investissements directs étrangers (IDE) [...] soit une progression de 12% [...] en un an ou une multiplication par mille [...] en vingt ans. [...] Pour la première fois, la Chine est passée devant les États-Unis, en tant que deuxième destination mondiale d'investissements étrangers (derrière l'intouchable Luxembourg, premier capteur de flux financiers pour des raisons fiscales).

On savait déjà que l'Empire du Milieu<sup>1</sup> faisait trois fois mieux que le Brésil ou près de dix fois mieux que l'Inde. Mais détrôner les États-Unis marque un tournant. Alors que va s'ouvrir, mercredi 10 septembre à Cancun, au Mexique, une nouvelle phase de négociations mondiales, sous l'égide de l'Organisation mondiale du commerce (OMC), la formidable montée en puissance de la Chine comme « atelier du monde » est indéniable sinon inéluctable. 420 000 entreprises étrangères y sont aujourd'hui implantées.

[...] Le total du capital étranger [investi] en Chine depuis le début de son ouverture, il y a deux décennies, se hisse à 448 milliards de dollars, soit trois fois moins qu'aux États-Unis. Certes encore, ce chiffre de 53 milliards de dollars pour 2002 est surestimé par l'effet du recyclage des capitaux domestiques s'expatriant pour revenir au pays (*round tripping*) rebadigeonnés aux couleurs étrangères afin de bénéficier d'avantages douaniers ou fiscaux. A Shanghai, par exemple, les flux en provenance des paradis fiscaux des Îles Vierges et des Îles Caïmans ont augmenté en 2002 respectivement de 24,1 % et 12,1 %.

Ce courant masque des investisseurs taiwanais, contournant les interdictions édictées par le gouvernement de Taïpeh<sup>2</sup>, mais il dissimule aussi du capital continental. Certains économistes estiment que ce gonflement artificiel des chiffres peut aller jusqu'à 25 %. C'est pour cette raison que le dernier rapport de la Cnuced<sup>3</sup> sur l'investissement dans le monde ramène sagement le véritable montant des IDE<sup>4</sup> en Chine, pour 2002, à 40 milliards de dollars, considérant excessifs les chiffres officiellement affichés par le gouvernement chinois. »

Frédéric BODIN, *Le Monde*, 9 septembre 2003

---

<sup>1</sup> *Empire du Milieu* : nom traditionnel donné à la Chine.

<sup>2</sup> *Taïpeh* : capitale de Taïwan

<sup>3</sup> *Cnuced* : Conférence des Nations Unies pour la Coopération et le Développement

<sup>4</sup> *IDE* : Investissements directs étrangers